

ACTIVIDADES DE AMPLIACIÓN DEL TEMA 7

1 Escribe cómo se leen estos números:

a) 345,76 →

.....

b) 4,56 →

.....

c) 13,8 →

.....

d) 23,05 →

.....

2 Escribe en la tabla cada uno de los números decimales que se indican.

	D	U,	d	c	m
Ocho unidades y cuatro décimas					
Tres unidades y cinco centésimas					
Seis unidades y tres décimas					
Doce unidades y quince centésimas					

3 Piensa y responde

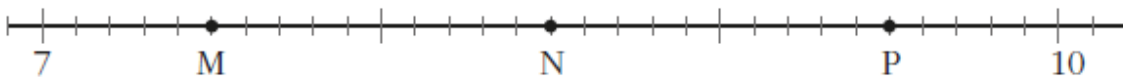
a) ¿Cuántos céntimos te dan por tres euros?

.....

b) ¿Cuántos céntimos te devuelven si pagas un refresco de 60 céntimos con un billete de cinco euros?

.....

4 ¿Qué número representa cada letra?



M =

N =

P =

7

Nombre y apellidos:

Ficha
2**5** Ordena de menor a mayor.

0,14 - 3,96 - 2,25 - 5,3 - 5,54

.....

6 Completa.

a) $34,25 - \dots = 8,43$

b) $2,13 + \dots = 3,6$

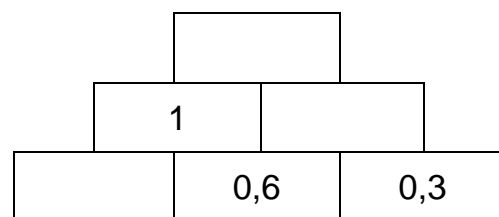
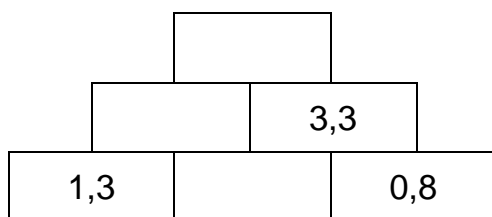
7 Coloca los números en columna y calcula.

a) $3,45 + 2,03 + 9,24$

c) $3,86 - 0,97$

b) $3,90 + 5,72 + 10,24$

d) $7,15 - 5,82$

8 Escribe los números que faltan en las pirámides. Cada número es igual a la suma de los que tiene debajo.**9** Luis ha comprado un pantalón de 14,95 € y una camiseta de 7,95 €. ¿Cuánto le costó la compra? Si para pagar entregó 30 €, ¿cuánto le devolvieron?

.....

.....